

NIVEAU :	ÉCOLE - CYCLE 2
DISCIPLINE :	MATHÉMATIQUES
CHAMP :	CONNAISSANCE DES NOMBRES.
COMPÉTENCE :	Connaître la suite des nombres.
MOTS CLES :	Nombre ; suite numérique.

NATURE DE L'ACTIVITE - TYPE DE SUPPORT

Compléter une suite numérique.

Dessins.

CONSIGNES DE PASSATION

Les consignes sont données au fur et à mesure en laissant une minute maximum aux enfants pour inscrire les résultats

Exercice a :

Observe les nombres qui se trouvent sur les trois premières lignes. Observe l'ordre dans lequel ils sont. Ecris les nombres dans les deux dernières lignes pour que la suite des nombres soit respectée.

Exercice b :

Observe les nombres qui se trouvent sur les trois derniers livres. Observe l'ordre dans lequel ils sont. Ecris les nombres sur les deux premiers livres pour que la suite des nombres soit respectée.

Exercice c :

Observe les nombres qui se trouvent sur les trois premières bornes. Observe l'ordre dans lequel ils sont. Ecris les nombres qui se trouvent dans les deux dernières pour que la suite des nombres soit respectée.

Exercice d :

Observe les nombres qui se trouvent sur les trois derniers nénuphars. Observe l'ordre dans lequel ils sont. Ecris les nombres dans les deux premiers nénuphars pour que la suite des nombres soit respectée.

COMMENTAIRES

Cet exercice s'inscrit exactement dans l'évaluation de la compétence : « connaître la suite des nombres ».

Le passage de la dizaine donne des indications quant à la maîtrise de la suite des nombres.

Inscrire les nombres qui se trouvent avant dans la suite croissante ou décroissante des nombres indique quel est le degré de maîtrise de la construction de la numération atteint par l'enfant.

Les erreurs peuvent être dues à un manque d'organisation dans la construction de la numération :

196 - 197 - 198 - 199 - 100 (190) ou 190/191 ...

142 - 141 - 140 - 141 - 142 ou ...

122 - 121 - 120 - 121 - 122 ou 122 - 121 - 120 - 110 - 111 ou ...

67 - 68 - 69 - 68 - 67 ou autre

L'effort portera sur la continuité de la suite numérique

CONSIGNES DE CODAGE

Code 1 - 3 ou 4 exercices justes

Code 9 - Au moins deux erreurs

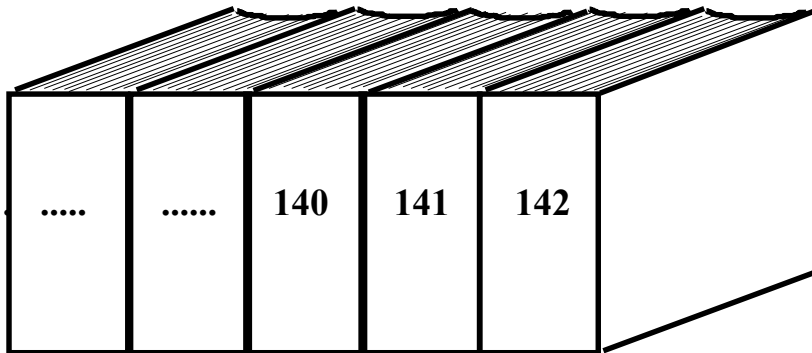
Code 0 - Absence de réponse

Continue les suites de nombres:


a)

196
197
198
...
...


b)



c)



d)



1	2	3	4	5	6	7	8	9	0
---	---	---	---	---	---	---	---	---	---